

5-7 класс

Вариант 1

Задание 01

Производство двух благ в экономике страны описывается таблицей производственных возможностей, которая имеет вид:

Вино, л	90	80	60	35	0
Сукно, м	0	10	20	30	40

Укажите все **ВЕРНЫЕ** утверждения:

А - Максимальное количество вина, которое производится в этой экономике, равно 90 л.

В - Максимальное количество сукна, которое производится в этой экономике, равно 40 м.

С - Альтернативная стоимость увеличения производства сукна с 20 до 30 м равна 25 л вина.

Д - Альтернативная стоимость производства первых 10 м сукна составляет 10 л вина.

Е - Альтернативная стоимость производства 1 метра сукна при увеличении его выпуска с 30 до 40 м равна 35 л вина.

Правильный ответ - А, В, С, D

Задание 02

Какие утверждения характеризуют признаки натурального хозяйства?

А - Замкнутый характер производства.

В - Трудовой процесс базируется на традициях, обычаях, принудительно устанавливаемых хозяйственных связях в рамках отдельной общности.

С - Медленные темпы развития.

Д - Процесс производства ведется с применением малопродуктивных орудий труда, не дающих дополнительного продукта сверх необходимого потребления самих производителей.

Е - Изготовленная продукция предназначена для свободной реализации на рынке.

Правильный ответ - А, В, С, D

Задание 03

Выберите все, что относится к неэкономическим (свободным) благам:

А - испеченный хлеб

В - кора дерева в лесу

С - мебель в магазине

D - уголь в недрах земли

Е - солнечный свет

Правильный ответ - В, D, Е

Задание 04

Какие черты характеризуют традиционную экономику?

А - Ручной труд преобладает во всех отраслях экономики.

В - Преобладает натуральное хозяйство.

С - Медленное развитие техники и технологий производства или их отсутствие.

D - Приоритет сферы услуг.

Е - Господство крупной частной собственности.

Правильный ответ - А, В, С

Задание 05

Выберите все ВЕРНЫЕ утверждения, характеризующие рыночное равновесие на рынке товаров и услуг:

А - Спрос равен предложению

В - Объем спроса равен объему предложения

С - Возникает дефицит товаров

D - Нет ни дефицита, ни избытка товаров и услуг

Е - Цена определяется производителем

Правильный ответ - В, D

Задание 06

Что из перечисленного в источниках доходов семьи относится к социальным выплатам государства?

A - Заработная плата

B - Стипендия

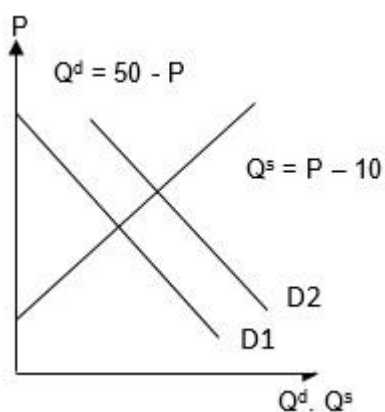
C - Пенсия

D - Плата за сдачу в аренду квартиры

E - Процент на депозит

Правильный ответ - B, C

Задание 07



На рисунке сформулированы условия задачи. Какие утверждения являются ВЕРНЫМИ?

A - Спрос на рынке вырос

B - Предложение сократилось

C - Равновесная рыночная цена равна 30

D - Равновесный объем равен 20

E - После роста спроса цена на рынке увеличилась

Правильный ответ - A, C, D, E

Задание 08

Укажите утверждения, относящиеся к макроэкономике:

А - правительство осуществляет политику, направленную на развитие в стране креативных технологий

В - отсутствие дождей в течение продолжительного времени вызвало в центральных районах России падение урожайности зерновых и рост цен

С - минимальный размер оплаты труда в РФ с 1 января 2022 года составляет 13890 рублей

Д - сокращение бюджетного дефицита является одним из средств снижения уровня инфляции

Е - снижение налоговых ставок призвано способствовать оживлению деловой активности в стране

Правильный ответ - А, С, D, Е

Задание 09

Установите соответствие между элементами семейного бюджета и соответствующими видами доходов и расходов:

1. регулярные расходы
2. доход от нетрудовой деятельности
3. разовые расходы
4. доход от трудовой деятельности

А - абонентская плата за телефон

В - пенсия бабушки

С - покупка самоката

Д - заработная плата мамы

Правильный ответ - А-1 В-2 С-3 D-4

Задание 10

Прочитайте небольшой экономический рассказ.

«Как-то раз ученик 6 класса Степан Коковин решил, что будет делать подставки под мобильный телефон и продавать на своей страничке во ВКонтакте. Он сел за стол, чтобы записать в тетради все шаги, которые ему

нужно сделать, чтобы реализовать свою идею. На первой странице он нарисовал макет своей подставки, ниже – для чего и для кого она нужна. На второй странице перечислил, что ему нужно 3 дощечки, инструменты, помощник для покраски изделий. Помогать будет сестра, которой он будет платить по 100 рублей за каждую оформленную подставку. На третьей странице был расчет, сколько понадобится денег для производства. На последней странице подвел итоги, решил, что подставка будет продаваться за 350 рублей, в месяц хочет продавать по 20 подставок. Сделан расчет, сколько «чистыми» он заработает денег в месяц. Оказалось, что чтобы «выйти в ноль», то есть окупить все затраты, ему надо 3 месяца и произвести для этого нужно 60 подставок. Со своей идеей он подошел к папе, чтобы тот одолжил ему денег на покупку материалов. Папа посмотрел его записи, решил поддержать сына и выделил ему 3000 рублей на условиях, что Степан вернет ему через полгода 3300. Мальчик согласился и начал работу с того, что сделал пару подставок и в своих соцсетях разместил их фотографии, описание из чего сделано, как можно использовать подставку, сколько она стоит и где ее можно купить. Еще он сравнил, что у других продавцов такие подставки дороже».

Установите соответствие между экономическими понятиями и их описанием в тексте:

1. кредит
2. конкурентное преимущество
3. цена
4. факторы производства

А - выделил ему 3000 рублей

В - у других продавцов такие подставки дороже

С - продаваться за 350 рублей

Д - 3 дощечки, инструменты, помощник

Правильный ответ - А-1 В-2 С-3 D-4

Задание 11

Установите соответствие между экономическими понятиями и их примерами из жизни:

1. деньги
2. себестоимость
3. доход
4. процент

А - В древние времена индейцы Центральной Америки использовали какао-бобы в торговле, оплачивая ими свои покупки. Чем являлись какао-бобы в такой торговле?

В - Вы состряпали пирожки и посчитали, что потратили на производство одного пирожка 25 рублей. 25 рублей – это...

С - Если собрать в своем саду ягоды и продать их, то полученные деньги – это...

Д - У Вас есть банковская карта, на которую банк начисляет...

Правильный ответ - А-1 В-2 С-3 D-4

Задание 12

Расположите в нужном порядке слова в тексте ниже на месте пробелов (все слова указаны в начальной форме):

Вы решили заняться __ (1) __ и __ (2) __ пирожки. Для своего бизнеса нужно __ (3) __ __ (4) __. Вы посчитали, что __ (5) __ на производство одного пирожка составят 25 рублей. Вы решили, что тогда __ (6) __ пирожка должна быть равна 45 рублей.

1. 1
2. 2
3. 3
4. 4
5. 5
6. 6

А - предпринимательство

В - продать

С - купить

Д - ресурс

Е - расход

Ф - цена

Правильный ответ - А-1 В-2 С-3 D-4 F-6

Задание 13

Найдите в приведенной таблице *экономический термин из сферы торговли* и запишите его в строку ответа.

Слово может располагаться по горизонтали или по вертикали, сверху вниз или снизу-вверх:

п	а	т	р	и	н	о
а	т	к	е	б	а	р
р	о	е	б	а	с	т
п	р	п	а	р	т	п
н	а	к	о	т	п	п
о	с	о	к	е	р	а
к	е	п	е	р	о	н

Правильный ответ - бартер

Задание 14

В прошлый месяц Катя покупала 3 ручки и 2 тетради, на все было потрачено 60 рублей. Сейчас на это приходится тратить 80 рублей.

На сколько рублей подорожала одна тетрадь, если цена за ручку не изменилась? (впишите число без единиц измерения)

Правильный ответ - 10

Задание 15

Степан достиг 14 лет и может летом поработать. По закону он может работать не более 4 часа в день. Папа предложил ему поработать на его предприятии и предложил такие варианты: наклеивать этикетки, за рабочий день получит 300 рублей, делать копии – 240 рублей за рабочий день и вносить в компьютер информацию об отгрузке товара – 400 рублей за рабочий день. **Сколько будет стоить час отдыха для Степана в терминах упущенного дохода (руб/час)?**

А - 60

В - 75

С - 78,33

Д - 100

Е - 235

Правильный ответ - Д

Вариант 2

Задание 01

Производство двух благ в экономике страны описывается таблицей производственных возможностей:

Велосипеды, шт.	115	100	80	50	0
Мопеды, шт.	0	15	30	45	60

Укажите все **ВЕРНЫЕ** утверждения:

- А** - Максимальное количество производимых в экономике велосипедов равно 115 шт.
- В** - Максимальное количество производимых в экономике мопедов равно 60 шт.
- С** - Альтернативная стоимость увеличения производства мопедов с 15 до 30 шт. равна 30 шт. велосипедов.
- Д** - Альтернативная стоимость выпуска первых 15 шт. мопедов составляет 15 шт. велосипедов.
- Е** - Альтернативная стоимость производства одного мопеда при увеличении их выпуска с 0 до 15 шт. равна одному велосипеду.

Правильный ответ - А, В, D, E

Задание 02

Какие утверждения характеризуют признаки товарного хозяйства?

- А** - Экономическая эволюция происходит медленно, отдельные усовершенствования и преобразования могут совершаться столетиями.
- В** - Быстрый экономический прогресс общества.
- С** - Высокие темпов роста производительности труда.
- Д** - Динамичное расширение ассортимента продукции.
- Е** - Уравнительный характер распределения.

Правильный ответ - В, С, D

Задание 03

Выберите все, что относится к экономическим благам:

A - грибы в лесу

B - сыр на полке магазина

C - мужская рубашка из хлопка

D - снег, вывезенный снегоуборочной техникой

E - картина известного художника

Правильный ответ - B, C, D, E

Задание 04

Какие черты характеризуют традиционную экономику?

A - Использование новейших технологий.

B - Широкое развитие коллективного труда и общинных отношений.

C - Преобладание традиций и обычаев при решении главных экономических вопросов.

D - Обмен товарами и услугами с помощью бартера.

E - Религиозные и культурные особенности не имеют первостепенной важности в экономической деятельности.

Правильный ответ - B, C, D

Задание 05

Выберите все ВЕРНЫЕ утверждения, характеризующие ситуацию на товарном рынке, если цена ниже равновесной:

A - Появляются избытки товаров

B - Падает цена ресурсов

C - Возникает дефицит товаров

D - Увеличивается общее количество товаров

E - Объем спроса превышает объем предложения

Правильный ответ - С, Е

Задание 06

Что из перечисленного в источниках доходов семьи относится к доходам от собственности?

А - Заработная плата

В - Дивиденды по акциям

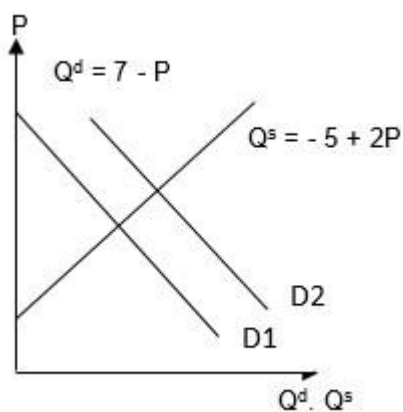
С - Пенсия

Д - Плата за сдачу в аренду квартиры

Е - Пособие на ребенка

Правильный ответ - В, D

Задание 07



На рисунке сформулированы условия задачи. Какие утверждения являются ВЕРНЫМИ?

А - Спрос на рынке сократился

В - Предложение не изменилось

С - Равновесная рыночная цена равна 4 ден. ед.

Д - Равновесный объем равен 2 шт.

Е - На графике есть два равновесия

Правильный ответ - В, С, Е

Задание 08

Укажите утверждения, относящиеся к микроэкономике:

A - правительство запланировало в следующем году увеличить размер прожиточного минимума

B - в центральных районах РФ ожидают рекордный урожай пшеницы

C - введенные Евросоюзом санкции потребовали изменить экономическую политику страны

D - для увеличения доходной части бюджета придется повысить налоговые ставки

E - больше всего в регионе от пандемии COVID-19 пострадала туристическая отрасль

Правильный ответ - B, E

Задание 09

Установите соответствие между элементами семейного бюджета и соответствующими видами доходов и расходов:

1. регулярные расходы
2. разовые расходы
3. доход от нетрудовой деятельности
4. доход от трудовой деятельности

A - покупка продуктов питания

B - покупка ноутбука

C - пенсия бабушки

D - заработная плата мамы

Правильный ответ - A-1 B-2 C-3 D-4

Задание 10

Прочитайте небольшой экономический рассказ.

«Как-то раз ученик 6 класса Степан Коковин решил, что будет делать подставки под мобильный телефон и продавать на своей страничке во ВКонтакте. Он сел за стол, чтобы записать в тетради все шаги, которые ему нужно сделать, чтобы реализовать свою идею. На первой странице он

нарисовал макет своей подставки, ниже – для чего и для кого она нужна. На второй странице перечислил, что ему нужно 3 дощечки, инструменты, помощник для покраски изделий. Помогать будет сестра, которой он будет платить по 100 рублей за каждую оформленную подставку. На третьей странице был расчет, сколько понадобится денег для производства. На последней странице подвел итоги, решил, что подставка будет продаваться за 350 рублей, в месяц хочет продавать по 20 подставок. Сделан расчет, сколько «чистыми» он заработает денег в месяц. Оказалось, что чтобы «выйти в ноль», то есть окупить все затраты, ему надо 3 месяца и произвести для этого нужно 60 подставок. Со своей идеей он подошел к папе, чтобы тот одолжил ему денег на покупку материалов. Папа посмотрел его записи, решил поддержать сына и выделил ему 3000 рублей на условиях, что Степан вернет ему через полгода 3300. Мальчик согласился и начал работу с того, что сделал пару подставок и в своих соцсетях разместил их фотографии, описание из чего сделано, как можно использовать подставку, сколько она стоит и где ее можно купить. Еще он сравнил, что у других продавцов такие подставки дороже».

Установите соответствие между экономическими понятиями и их описанием в тексте:

1. заработная плата
2. работник
3. предприниматель
4. кредит с процентами

А - Помогать будет сестра, которой он будет платить по 100 рублей за каждую оформленную подставку. Эти 100 рублей...

В - Сестра в этом бизнес-проекте...

С - Степан в этом бизнес-проекте...

Д - «вернет ему через полгода 3300». Эти 3300 рублей...

Правильный ответ - А-1 В-2 С-3 D-4

Задание 11

Установите соответствие между экономическими понятиями и их примерами из жизни:

1. деньги
2. процент
3. бартер
4. аренда

А - В древние времена ракушки каури использовали в торговле в качестве оплаты покупок. Чем являлись ракушки в такой торговле?

В - Вы одолжили своему другу 1000 рублей, а он вернул 1100. Для Вас эти 100 рублей...

С - Своему соседу по парте Вы дали стирательную резинку, а он – линейку. Это в экономике называется...

Д - У своей старшей сестры-студентки Иван, ученик 6 класса, взял попользоваться циркулем на весь учебный год. Такое пользование циркулем на время сестра назвала...

Правильный ответ - А-1 В-2 С-3 D-4

Задание 12

Расположите в нужном порядке слова в тексте ниже на месте пробелов (все слова указаны в начальной форме):

Вы решили заняться __ (1) __ и взяли в __ (2) __ вендинговый аппарат. Этот автомат стоит в холле спортивной школы. У __ (3) __ __ (4) __ Вы приобрели 300 энергетических батончиков и заправили автомат. Как оказалось, __ (5) __ был большим. Даже была очередь из __ (6) __, они ежедневно брали около 50 батончиков.

1. 1
2. 2
3. 3
4. 4
5. 5
6. 6

А - бизнес

В - аренда

С - оптовый

Д - продавец

Е - спрос

Ф - покупатель

Правильный ответ - А-1 В-2 С-3 D-4 F-6

Задание 13

Найдите в приведенной таблице *экономический термин* из области *финансовой грамотности* и запишите его в строку ответа.

Слово может располагаться по горизонтали или по вертикали, сверху вниз или снизу-вверх:

г	а	т	р	и	н	о
у	т	а	т	о	х	р
б	е	т	с	а	п	а
т	е	ж	д	ю	б	ю
б	а	к	о	т	п	л
о	с	о	к	е	р	а
б	е	к	о	р	о	т

Правильный ответ - бюджет

Задание 14

В прошлый месяц Катя покупала 5 ручек и 3 тетради, на все было потрачено 90 рублей. Сейчас на это приходится тратить 130 рублей.

На сколько рублей подорожала одна ручка, если цена за тетрадь не изменилась? (впишите число без единиц измерения)

Правильный ответ - 8

Задание 15

Степан достиг 14 лет и может летом поработать. По закону он может работать не более 4 часа в день. Папа предложил ему поработать на его предприятии и предложил такие варианты: наклеивать этикетки, за свой рабочий день получит 250 рублей, делать копии – 330 рублей за свой рабочий день и вносить в компьютер информацию об отгрузке товара – 420 рублей за свой рабочий день. **Сколько будет стоить час отдыха для Степана в терминах упущенного дохода (руб./час)?**

А - 250

В - 83,33

С - 62,5

Д - 82,5

Е - 105

Правильный ответ - Е

Вариант 3

Задание 01

Производство двух благ в экономике страны описывается таблицей производственных возможностей:

Пушки, шт.	75	70	60	30	0
Масло, кг	0	5	10	15	20

Укажите все **ВЕРНЫЕ** утверждения:

- А** - Максимальное количество производимых в экономике пушек равно 75 шт.
- В** - Максимальное количество производимого в экономике масла равно 20 кг.
- С** - Альтернативная стоимость увеличения производства масла с 10 до 15 кг равна 20 шт. пушек.
- Д** - Альтернативная стоимость выпуска первых 5 кг масла составляет 5 шт. пушек.
- Е** - Альтернативная стоимость производства одного кг масла при увеличении его выпуска с 0 до 5 кг равна одной пушке.

Правильный ответ - А, В, D, E

Задание 02

Какие утверждения характеризуют признаки товарного хозяйства?

- А** - Обеспечивает удовлетворение значительных по объему и разнообразных по качественному составу потребностей.
- В** - Продукция производится с целью продажи.
- С** - Отсутствие товарного обмена, денег, механизмов купли-продажи.
- Д** - Производство продукции тесно связано с жизнедеятельностью самой общины.
- Е** - Производство носит механизированный характер.

Правильный ответ - А, В, Е

Задание 03

Выберите все, что относится к экономическим благам:

A - рыба в реке

B - городской оборудованный пляж

C - детская дворовая площадка

D - маяк

E - дождевая вода

Правильный ответ - B, C, D

Задание 04

В чем преимущества традиционной экономики?

A - Стабильность

B - Предсказуемость

C - Преобладание ручного труда

D - Ограниченный, неразвитый обмен

E - Приверженность традиционным методам ведения хозяйства

Правильный ответ - A, B

Задание 05

Выберите все ВЕРНЫЕ утверждения, характеризующие ситуацию на товарном рынке, если цена выше равновесной:

A - Появляются избытки товаров

B - Растет цена ресурсов

C - Возникает дефицит товаров

D - Уменьшается общее количество товаров

E - Объем спроса меньше объема предложения

Правильный ответ - A, E

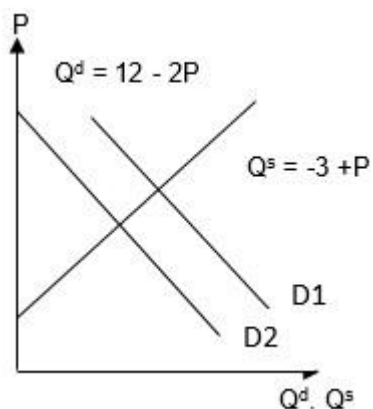
Задание 06

Что из перечисленного НЕ относится в источниках доходов семьи к социальным выплатам государства?

- А - Заработная плата
- В - Дивиденды по акциям
- С - Пенсия
- Д - Плата за сдачу в аренду квартиры
- Е - Пособие на ребенка

Правильный ответ - А, В, D

Задание 07



На рисунке сформулированы условия задачи. Какие утверждения являются **ВЕРНЫМИ**?

- А - Спрос на рынке сократился
- В - Предложение не изменилось
- С - Равновесная рыночная цена равна 4 ден. ед.
- Д - Равновесный объем равен 2 шт.
- Е - На графике есть два равновесия

Правильный ответ - А, В, D, E

Задание 08

Укажите утверждения, относящиеся к микроэкономике:

А - торговый баланс страны стал профицитным после девальвации национальной валюты

В - в автомобильной отрасли страны после локдауна увеличились продажи

С - инфляция выросла за последний квартал на 5% и составила 20% в годовом исчислении

Д - фармацевтическая отрасль страны переживает подъем

Е - правительство страны разработало программу льгот для привлечения инвесторов в страну

Правильный ответ - В, D

Задание 09

Установите соответствие между элементами семейного бюджета и соответствующими видами доходов и расходов:

1. регулярные расходы
2. разовые расходы
3. доход от нетрудовой деятельности
4. доход от трудовой деятельности

А - проценты по кредиту (ипотеке)

В - покупка велосипеда для сына

С - стипендия дочери-студентки

Д - заработная плата родителей

Правильный ответ - А-1 В-2 С-3 D-4

Задание 10

Прочитайте небольшой экономический рассказ.

«Как-то раз ученик 6 класса Степан Коковин решил, что будет делать подставки под мобильный телефон и продавать на своей страничке во ВКонтакте. Он сел за стол, чтобы записать в тетради все шаги, которые ему нужно сделать, чтобы реализовать свою идею. На первой странице он нарисовал макет своей подставки, ниже – для чего и для кого она нужна. На второй странице перечислил, что ему нужно 3 дощечки, инструменты, помощник для покраски изделий. Помогать будет сестра, которой он будет платить по 100 рублей за каждую оформленную подставку. На третьей странице был расчет, сколько понадобится денег для производства. На

последней странице подвел итоги, решил, что подставка будет продаваться за 350 рублей, в месяц хочет продавать по 20 подставок. Сделан расчет, сколько «чистыми» он заработает денег в месяц. Оказалось, что чтобы «выйти в ноль», то есть окупить все затраты, ему надо 3 месяца и произвести для этого нужно 60 подставок. Со своей идеей он подошел к папе, чтобы тот одолжил ему денег на покупку материалов. Папа посмотрел его записи, решил поддержать сына и выделил ему 3000 рублей на условиях, что Степан вернет ему через полгода 3300. Мальчик согласился и начал работу с того, что сделал пару подставок и в своих соцсетях разместил их фотографии, описание из чего сделано, как можно использовать подставку, сколько она стоит и где ее можно купить. Еще он сравнил, что у других продавцов такие подставки дороже».

Установите соответствие между экономическими понятиями и их описанием в тексте:

1. ресурсы
2. срок окупаемости
3. реклама
4. цена

А - 3 дощечки, инструменты, помощник для покраски изделий

В - 3 месяца

С - в своих соцсетях разместил их фотографии, описание из чего сделано, как можно использовать подставку

Д - сколько она стоит

Правильный ответ - А-1 В-2 С-3 D-4

Задание 11

Установите соответствие между экономическими понятиями и их примерами из жизни:

1. деньги
2. кредит
3. бартер
4. аренда

А - В древние времена на Востоке чайные брикеты использовали в торговле в качестве оплаты покупок. Чем чай был в такой торговле?

В - Вы одолжили своему другу 1000 рублей. Для него это...

С - Своему соседу по парте Вы дали пользоваться ручкой с зеленой пастой взамен на линейку. Этот обмен в экономике называется...

D - У своей старшей сестры-студентки Соня, ученица 5 класса, взяла попользоваться пяльце с иголкой для вышивания, чтобы летом научиться вышивать крестиком. Такое пользование на время сестра назвала...

Правильный ответ - А-1 В-2 С-3 D-4

Задание 12

Расположите в нужном порядке слова в тексте ниже на месте пробелов (все слова указаны в начальной форме):

Вы решили, что __ (1) _____ энергетических батончиков в автомате – выгодный __ (2) _____, а Вы будете успешным __ (3) _____. Ваш вендинговый автомат стоит в холле спортивной школы. Так Вы формируете __ (4) _____ батончиков. Так как никто больше не продает батончики в этом месте, то у Вас нет __ (5) _____. 2000 рублей – вот средняя __ (6) _____ в день с этого автомата.

1. 1
2. 2
3. 3
4. 4
5. 5
6. 6

A - продажа

B - бизнес

C - предприниматель

D - предложение

E - конкурент

F - выручка

Правильный ответ - А-1 В-2 С-3 D-4 F-6

Задание 13

Найдите в приведенной таблице *экономический термин из области финансовой грамотности* и запишите его в строку ответа.

Слово может располагаться по горизонтали или по вертикали, сверху вниз или снизу-вверх:

г	а	т	р	д	о	о
н	т	а	т	р	х	р
т	д	т	с	а	п	а
а	о	ж	о	к	к	е
р	х	к	о	о	п	л
о	о	о	к	е	р	а
к	д	р	д	р	о	н

Правильный ответ - доход

Задание 14

В прошлый месяц Катя покупала 5 ручек и 2 тетради, на все было потрачено 90 рублей. Сейчас это все обходится в 80 рублей из-за скидок.

Сколько рублей составила скидка на одну ручку, если цена тетрадей не изменилась? (впишите число без единиц измерения)

Правильный ответ - 2

Задание 15

Катя достигла 14 лет и может летом поработать. По закону она может работать не более 4 часа в день. Папа предложил ей поработать на его предприятии и предложил такие варианты: наклеивать этикетки, за свой рабочий день получит 220 рублей, делать копии – 300 рублей за свой рабочий день и вносить в компьютер информацию об отгрузке товара – 440 рублей за свой рабочий день. **Сколько будет стоить час отдыха для Кати в терминах упущенного дохода (руб. / час)?**

А - 110

В - 55

С - 75

Д - 80

Е - 240

Правильный ответ - А

Вариант 4

Задание 01

Производство двух благ в экономике страны описывается таблицей производственных возможностей, которая имеет вид:

Холодильники, шт.	300	250	180	100	0
Камины, шт.	0	20	40	60	80

Укажите все **ВЕРНЫЕ** утверждения:

А - Максимальное количество производимых в экономике холодильников равно 300 шт.

В - Максимальное количество производимых в экономике каминов равно 80 шт.

С - Альтернативная стоимость увеличения производства каминов с 20 до 40 шт. равна 80 шт. холодильников.

Д - Альтернативная стоимость выпуска первых 20 штук каминов составляет 50 шт. холодильников.

Е - Альтернативная стоимость производства одного камина равна 3 холодильникам при увеличении производства каминов с 0 до 20 шт.

Правильный ответ - А, В, Д

Задание 02

Какие утверждения характеризуют признаки натурального хозяйства?

А - Производство основано как на индивидуальном труде собственника, так и на применении им наемной рабочей силы.

В - Медленные темпы развития.

С - Разделение труда внутри общины осуществляется по полу и возрасту.

Д - Общинная собственность на средства производства.

Е - Связь между производством и потреблением опосредована рынком.

Правильный ответ - В, С, Д

Задание 03

Выберите все, что относится к свободным (неэкономическим) благам:

A - ягоды в лесу

B - снег на улицах города

C - вода в жаркий день в реке

D - воздух в атмосфере

E - джинсы

Правильный ответ - A, B, C, D

Задание 04

Какие черты характеризуют традиционную экономику?

A - Передовые технологии

B - Преобладание ручного труда

C - Нет регулярных излишков пищи

D - Экономические решения опираются на традиции

E - Хорошо развита торговля

Правильный ответ - B, C, D

Задание 05

Выберите все ВЕРНЫЕ утверждения, характеризующие отсутствие рыночного равновесия на рынке товаров и услуг:

A - Спрос равен предложению

B - Объем спроса превышает объем предложения

C - Возникает дефицит товаров

D - Нет ни дефицита, ни избытка товаров и услуг

E - Цена определяется производителем

Правильный ответ - B, C, E

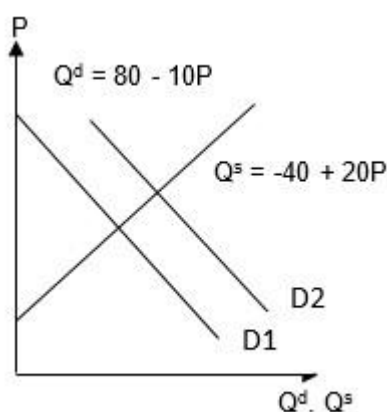
Задание 06

Что из перечисленного в источниках доходов семьи НЕ относится к доходам от собственности?

- А - Заработная плата
- В - Дивиденды по акциям
- С - Пенсия
- Д - Плата за сдачу в аренду квартиры
- Е - Пособие на ребенка

Правильный ответ - А, С, Е

Задание 07



На рисунке сформулированы условия задачи. Какие утверждения являются **ВЕРНЫМИ**?

- А - Спрос на рынке сократился
- В - Предложение увеличилось
- С - Равновесная рыночная цена равна 4 ден. ед.
- Д - Равновесный объем равен 40 шт.
- Е - На графике есть два равновесия

Правильный ответ - С, Д, Е

Задание 08

Укажите утверждения, относящиеся к макроэкономике:

А - курс национальной валюты существенно вырос, что создало проблемы для экспортеров

В - начало пандемии привело к росту спроса на защитные маски

С - экономический спад в экономике грозит перерасти в депрессию

Д - бюджет государства стал к концу года профицитным

Е - в мировой экономике наблюдается рост цифровизации экономических процессов

Правильный ответ - А, С, D, Е

Задание 09

Установите соответствие между элементами семейного бюджета и соответствующими видами доходов и расходов:

1. регулярные расходы
2. доход от нетрудовой деятельности
3. разовые расходы
4. доход от трудовой деятельности

А - выплата части потребительского кредита, взятого на 3 года

В - пособие на ребенка

С - покупка смартфона

Д - заработная плата бабушки и мамы

Правильный ответ - А-1 В-2 С-3 D-4

Задание 10

Прочитайте небольшой экономический рассказ.

«Как-то раз ученик 6 класса Степан Коковин решил, что будет делать подставки под мобильный телефон и продавать на своей страничке во ВКонтакте. Он сел за стол, чтобы записать в тетради все шаги, которые ему нужно сделать, чтобы реализовать свою идею. На первой странице он нарисовал макет своей подставки, ниже – для чего и для кого она нужна. На второй странице перечислил, что ему нужно 3 дощечки, инструменты, помощник для покраски изделий. Помогать будет сестра, которой он будет платить по 100 рублей за каждую оформленную подставку. На третьей странице был расчет, сколько понадобится денег для производства. На последней странице подвел итоги, решил, что подставка будет продаваться за

350 рублей, в месяц хочет продавать по 20 подставок. Сделан расчет, сколько «чистыми» он заработает денег в месяц. Оказалось, что чтобы «выйти в ноль», то есть окупить все затраты, ему надо 3 месяца и произвести для этого нужно 60 подставок. Со своей идеей он подошел к папе, чтобы тот одолжил ему денег на покупку материалов. Папа посмотрел его записи, решил поддержать сына и выделил ему 3000 рублей на условиях, что Степан вернет ему через полгода 3300. Мальчик согласился и начал работу с того, что сделал пару подставок и в своих соцсетях разместил их фотографии, описание из чего сделано, как можно использовать подставку, сколько она стоит и где ее можно купить. Еще он сравнил, что у других продавцов такие подставки дороже».

Установите соответствие между экономическими понятиями и их описанием в тексте:

1. точка безубыточности
2. цена
3. выручка
4. объем продаж

А - чтобы «выйти в ноль», то есть окупить все затраты, ему надо 3 месяца и произвести для этого нужно 60 подставок

В - 350 рублей

С - $350 * 20 = 7000$ рублей

Д - 20 подставок

Правильный ответ - А-1 В-2 С-3 D-4

Задание 11

Установите соответствие между экономическими понятиями и их примерами из жизни:

1. деньги
2. депозит
3. аренда
4. бартер

А - В древние времена некоторые торговцы использовали соль в торговле в качестве оплаты покупок. Чем соль была в такой торговле?

В - Вы положили в банк 10000 рублей. Для Вас это...

С - Своему младшему брату Вы дали свой старый телефон попользоваться, пока его будет в ремонте. Он очень любит играть в Standoff2 и не хочет потерять свои достижения в игре. Такое пользование на время Вы назвали как...

D - Своему другу Вы одолжили велосипед, а он дал скейт. Так Вы весь день и прокатались. Этот обмен в экономике называется...

Правильный ответ - А-1 В-2 С-3 D-4

Задание 12

Расположите в нужном порядке слова в тексте ниже на месте пробелов (все слова указаны в начальной форме):

Вы решили, что __ (1) _____ в 16 лет может быть выгодным. Вы выбрали место, где никто не продает этот же _____ (2) _____, то есть нет _____ (3) _____. По вашему мнению ежемесячно будете зарабатывать 20000 рублей _____ (4) _____. Оказалось, что на деле, через месяц _____ (5) _____ вырос, поэтому нужно еще больше закупить продукции для увеличения _____ (6) _____.

1. 1
2. 2
3. 3
4. 4
5. 5
6. 6

A - бизнес

B - товар

C - конкуренция

D - прибыль

E - спрос

F - продажа

Правильный ответ - А-1 В-2 С-3 D-4 F-6

Задание 13

Найдите в приведенной таблице *экономический термин из области финансовой грамотности* и запишите его в строку ответа.

Слово может располагаться по горизонтали или по вертикали, сверху вниз или снизу-вверх:

п	а	т	б	р	о	м
г	т	а	п	р	х	р
р	д	т	р	а	в	м
п	р	а	ж	а	п	е
р	р	х	а	к	к	е
о	а	о	к	е	р	а
к	д	р	а	к	о	т

Правильный ответ - биржа

Задание 14

В прошлый месяц Катя покупала 3 ручки и 3 тетради, на все было потрачено 90 рублей. Сейчас это все обходится в 75 рублей из-за скидок.

Сколько рублей составила скидка на одну тетрадь, если цена ручек не изменилась? (впишите число без единиц измерения)

Правильный ответ - 5

Задание 15

Катя достигла 14 лет и может летом поработать. По закону она может работать не более 4 часа в день. Папа предложил ей поработать на его предприятии и предложил такие варианты: наклеивать этикетки, за свой рабочий день получит 224 рубля, делать копии – 280 рублей за свой рабочий день и вносить в компьютер информацию об отгрузке товара – 404 рубля за свой рабочий день. **Сколько будет стоить час отдыха для Кати в терминах упущенного дохода (руб/час)?**

А - 56

В - 70

С - 101

Д - 227

Е - 75,67

Правильный ответ - С